

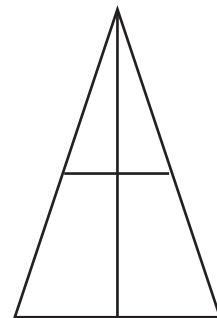
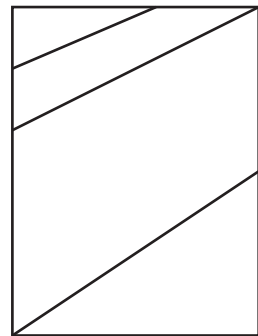
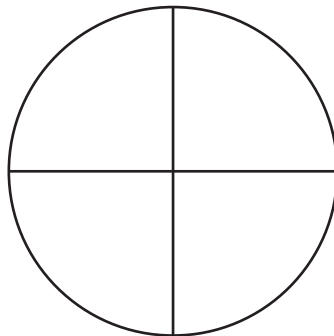

APPROCHE DES FRACTIONS

1 Combien de parts égales aura une forme découpée en quatre

Mets une croix dans la bonne case

	2	3	4	8
	<input type="checkbox"/>	<input type="checkbox"/>	<input type="checkbox"/>	<input type="checkbox"/>

2 Mets un point rouge sur les figures qui ont été découpées en 4 parts égales



3 Colorie en bleu le quart de chacune de ces formes

